


NOM: _____

MON CAHIER DE CONFINEMENT

(POUR LES PLUS PETITS)



#ÇAVABIENALLER

En attendant qu'on se revoit, voici quelques activités pour te garder occupé !

DÉFI # 1 : CHASSE AU TRÉSOR

À FAIRE POUR LE: _____

Trouve un objet dans ta maison ...

1. Qui est de couleur **bleue** :

2. Qui commence par la lettre P :

3. Qui est en forme de cube ou de prisme:

4. Qui commence par la lettre T :

5. Qui est de couleur **mauve** :

6. Qui est en forme de cylindre :

7. Qui commence par la lettre L :

8. Qui se mesure en cm:

9. Qui sert à faire du ménage:

10. Qui est mou:

11. Qui est lourd:

12. Qui est **vert**:

13. Qui a des motifs:

14. Qui est important à tes yeux:

15. Qui roule:

16. Qui n'a pas de "a" dans son nom:

DÉFI RÉUSSI ! 😊

DÉFI # 2 : COMPTER LES ARCS-EN-CIEL

À FAIRE POUR LE: _____

Prends une marche dans ton quartier et compte le nombre d'arcs-en-ciel dans les fenêtres.

Encercle ou colorie un arc-en-ciel chaque fois que tu en vois un!



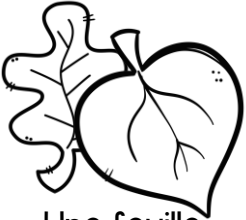














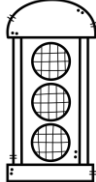
DÉFI # 3 : CHASSE À L'EXTÉRIEUR

À FAIRE POUR LE: _____

Sors à l'extérieur.

Coche lorsque tu as trouvé chaque objet suivant.

Tu peux même les prendre en photo pour nous les montrer ensuite !

<input type="checkbox"/> TROUVÉ	<input type="checkbox"/> TROUVÉ	<input type="checkbox"/> TROUVÉ	<input type="checkbox"/> TROUVÉ
 Une feuille	 Une branche	 Du gazon	 De la terre
<input type="checkbox"/> TROUVÉ	<input type="checkbox"/> TROUVÉ	<input type="checkbox"/> TROUVÉ	<input type="checkbox"/> TROUVÉ
 Une roche	 Un insecte	 De l'eau	 Un oiseau
<input type="checkbox"/> TROUVÉ	<input type="checkbox"/> TROUVÉ	<input type="checkbox"/> TROUVÉ	<input type="checkbox"/> TROUVÉ
 Un nuage	 Une fleur	 Un écureuil	 Un arbre
<input type="checkbox"/> TROUVÉ	<input type="checkbox"/> TROUVÉ	<input type="checkbox"/> TROUVÉ	<input type="checkbox"/> TROUVÉ
 Un buisson	 Un nid	 Un panneau d'arrêt	 Un feu de circulation

DÉFI # 4 : LES ADRESSES

À FAIRE POUR LE: _____








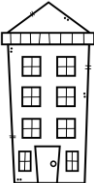








Regarde les adresses des maisons de ton quartier

Trouve une adresse qui correspond à chaque critère

Exemple: La somme donne 10. L'adresse $244 = 2+4+4 = 10$

Ton adresse: _____

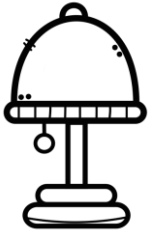
Trouve une adresse qui...

<input type="checkbox"/> TROUVÉ	<input type="checkbox"/> TROUVÉ	<input type="checkbox"/> TROUVÉ	<input type="checkbox"/> TROUVÉ
 _____	 _____	 _____	 _____
La somme des chiffres donne 10	est paire	est impaire	est plus grande que la tienne
<input type="checkbox"/> TROUVÉ	<input type="checkbox"/> TROUVÉ	<input type="checkbox"/> TROUVÉ	<input type="checkbox"/> TROUVÉ
 _____	 _____	 _____	 _____
est plus petite que la tienne	La somme des chiffres donne 18	avec tous ses chiffres identiques	La somme des chiffres donne 20
<input type="checkbox"/> TROUVÉ	<input type="checkbox"/> TROUVÉ	<input type="checkbox"/> TROUVÉ	<input type="checkbox"/> TROUVÉ
 _____	 _____	 _____	 _____
Qui a un 4 à la position des dizaines	Qui a un 9 à la position des unités	La somme des chiffres donne 12	Qui a un 7 à la position des unités
<input type="checkbox"/> TROUVÉ	<input type="checkbox"/> TROUVÉ	<input type="checkbox"/> TROUVÉ	<input type="checkbox"/> TROUVÉ
 _____	 _____	 _____	 _____
Qui a un 6 à la position des dizaines	Qui a un 5 à la position des unités	La somme des chiffres donne 24	Qui a un 1 à la position des unités

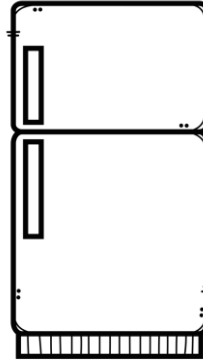
DÉFI # 5 : LA MESURE

À FAIRE POUR LE: _____

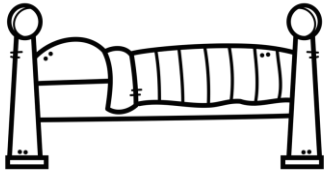
Choisis la bonne taille pour chaque objet.



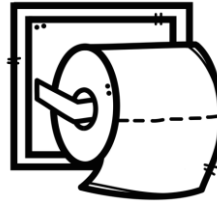
- petit
- moyen
- grand



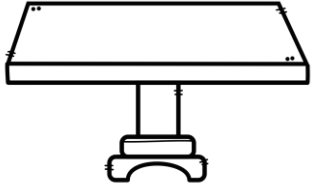
- petit
- moyen
- grand



- petit
- moyen
- grand




- petit
- moyen
- grand




- petit
- moyen
- grand



- petit
- moyen
- grand



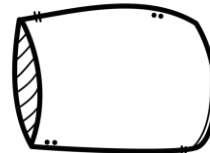
- petit
- moyen
- grand



- petit
- moyen
- grand




- petit
- moyen
- grand



- petit
- moyen
- grand



- petit
- moyen
- grand



- petit
- moyen
- grand

DÉFI # 6 : LE NOM DES RUES

À FAIRE POUR LE: _____

Observe le nom des rues de ton quartier.

Trouve un nom de rue qui...

- Contient 3 voyelles
- Commence par le son «M», «L» ou «F»
- Contient entre 6 et 10 lettres
- Commence par le son «A»
- Est composé (deux mots)
- Est sens unique

NOM DE LA RUE

DÉFI # 7 : LA CIRCULAIRE








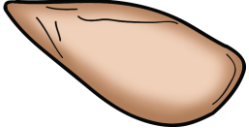








À FAIRE POUR LE: _____

Choisis 4 items parmi les aliments de la page suivante.

Découpe-les et colle-les ici. Ensuite, calcule combien te coûterait ta facture.

	ITEM 1	ITEM 2	ITEM 3	ITEM 4
I M A G E	COLLER ICI	COLLER ICI	COLLER ICI	COLLER ICI
P R I X				
T O T A L	_____ \$			

DÉFI # 7 : LA CIRCULAIRE

 <p>3 \$</p>	 <p>2 \$</p>	 <p>2 \$</p>	 <p>4 \$</p>
 <p>1 \$</p>	 <p>3 \$</p>	 <p>2 \$</p>	 <p>8 \$</p>
 <p>10 \$</p>	 <p>3 \$</p>	 <p>5 \$</p>	 <p>1 \$</p>
 <p>2 \$</p>	 <p>5 \$</p>	 <p>6 \$</p>	 <p>7 \$</p>

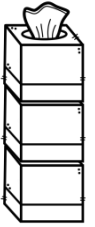
DÉFI # 8 : LES TOURS

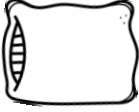

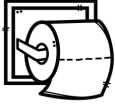


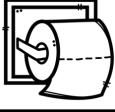


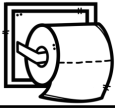


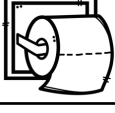


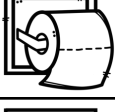





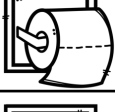


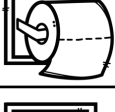
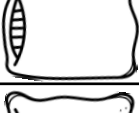

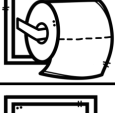



À FAIRE POUR LE: _____

Trouve les objets suivants dans ta maison et fais une tour avec eux ! Colorie le bon nombre d'objets pour chaque tour.

Prends ta tour en photo si tu veux nous la montrer!

Exemple : J'ai trouvé 3 boîtes de mouchoirs. Voici ma tour:



Coussins	Mouchoirs	Papier de toilette
		
		
		
		
		
		
		
		
		
		

DÉFI # 9 : QUE FAIT TON ENSEIGNANT (E)?

À FAIRE POUR LE: _____

Dessine ce que tu penses que ton enseignant (e) fait pendant le confinement.

Écris quelques phrases pour expliquer.



Handwriting practice lines consisting of solid top and bottom lines with a dashed middle line. There are ten sets of these lines provided for writing.

DÉFI # 10 : L'INVENTAIRE DE VÊTEMENTS

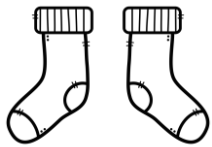
À FAIRE POUR LE: _____

Dénombrer tes vêtements selon la catégorie.

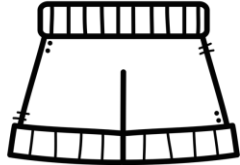
Combien as-tu de...



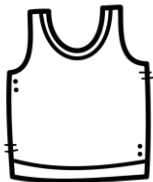
Chandails ?



Paires de bas ?




Shorts ?



Camisoles ?




vestes ?




Pantalons ?

Quantité



sandaes ?



robes ?



T-shirts ?



jupes ?



maillots ?



chaussures ?

Quantité

DÉFI # II : LES CHANSONS FRANCOPHONES

À FAIRE POUR LE: _____

Écoute les chansons francophones proposées. Tu peux cliquer sur le titre pour la trouver sur *Youtube*.

Choisis ta préférée et explique pourquoi.

Chansons:

- [Coton ouaté](#) de Bleu Jeans Bleu
- [Hawaïenne](#) des Trois Accords
- [Ouvre tes yeux, Simon](#) des Trois Accords
- [Montréal](#) d'Ariane Moffat
- [L'écrivain](#) d'Alexandre Poulin
- [On va s'aimer encore](#) de Vincent Vallières
- [Comme des enfants](#) de Coeur de pirate
- [Alors on danse](#) de Stromae
- [Comme avant](#) de Marie-Mai
- [Les étoiles filantes](#) des Cowboys fringants
- [Toi + moi](#) de Grégoire
- [Je vole](#) de Michel Sardou, interprétée par Louane
- [Si jamais j'oublie](#) de Zaz



Ma chanson préférée est _____

Parce que :

DÉFI # 12 : LA RECETTE

À FAIRE POUR LE: _____

Avec tes parents, fais une recette de ton choix.

Note les ingrédients et les étapes et partage-la avec ta classe par courriel ou vidéoconférence.

Ingrédients:

- _____
- _____
- _____
- _____
- _____
- _____
- _____



Étapes:

- 1) _____
- 2) _____
- 3) _____
- 4) _____
- 5) _____
- 6) _____
- 7) _____
- 8) _____
- 9) _____
- 10) _____




Dessine le résultat final.

ACTIVITÉS DE RÉVISION ET D'ENRICHISSEMENT



Colorie selon la légende.



Colorie selon la légende

4 = jaune

6 = bleu

8 = vert

10 = rouge

12 = mauve

14 = rose

16 = orange

18 = gris

20 = noir

Colle les images sous le bon son initial.


Son «o», «au» et «eau»

Son «en», «an», «am» et «em»

Son «ch»

Son «m»

©MME ARIANE




Complète avec le bon son.



____rs




__rain



Citr_____



____seau



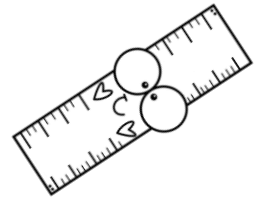
Cray_____



Av__cat




P____da



R__gle




L__vre



P____ss_____



P____vron



Cis_____x




Ball_____



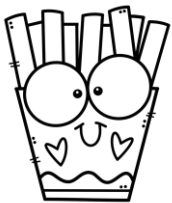
__omme



Ti__re



Pizz__



__rite




Bal_____çoire



P____re



Bat_____



Colorie selon les consignes:

Le soleil jaune brille dans le ciel. Il y a de gros nuages gris qui arrivent.

Polo l'ours porte son chapeau bleu et sa veste orange.


Il arrive près d'un arbre vert avec des feuilles jaunes.

Un petit champignon mauve et rose se trouve par terre.

Il y a aussi deux petites plantes, une jaune et une verte, au pied de l'arbre.

Pour le jour de la terre, Sophie est sortie ramasser des déchets avec sa famille. Elle a ramassé 12 déchets et son frère a ramassé 8 déchets.


Combien de déchets ont-ils ramassés en tout?



Ils ont ramassé _____ déchets en tout.







Voici les pommes de Martine. Elle en utilise 3 pour faire une tarte.

Combien de pommes lui reste-t-il?



Il lui reste _____ pommes.

En utilisant les boîtes de 10, illustre les nombres suivants.

 5	 11	 23
 20	 16	 8

Écris 3 phrases en utilisant les mots suivants :



main



microbe



arc-en-ciel




maison

1.

2.

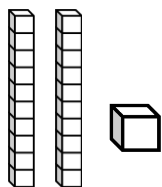
3.

Voici le repas de Camila le koala.
Combien de feuilles a-t-elle mangées?

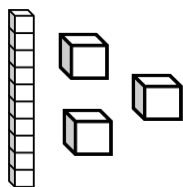


Camila le koala a mangé _____ feuilles.

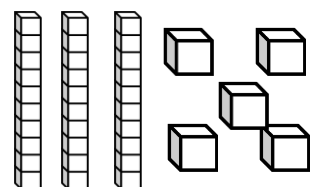
Relie la bonne représentation au bon nombre.



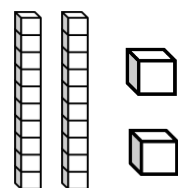
• 22



• 35






• 21



• 13







Combien y a-t-il d'escargots en tout ?



Il y a _____ escargots en tout.

Compte les poissons dans chaque aquarium.

©MME ARIANE



CRÉDITS



L'utilisation de cette ressource est à l'usage exclusif de la personne ayant acheté les droits. Toute redistribution ou reproduction est interdite. La vente ou le partage de ce produit sur internet est également interdit.

Si vous avez des questions, n'hésitez pas à m'écrire.

Suivez-moi sur instagram : [mme.ariane](#)
Suivez-moi sur Facebook: Mme Ariane

