

## Phrase du jour

Tu pourrais faire un joli coloriage pour ta grand-maman.

Tâches:

- Identifie la classe de mot de tous les mots de la phrase.
- Trouve un synonyme à joli.
- Identifie la terminaison du verbe conjugué.
- Trouve un mot de même famille que coloriage.



# Jour 2

## la balle molle

Adèle pratique un sport nommé la balle molle depuis quelques mois. Comme c'est sa première saison, elle apprend beaucoup de ses coéquipières. Toutefois, Adèle réussit à se démarquer en marquant plusieurs points.

Adèle remarque une certaine régularité dans les points qu'elle marque lors de ses parties de balle molle.

Complète le tableau suivant et trouve la règle.

Partie 1	Partie 2	Partie 3	Partie 4	Partie 5	Partie 6	Partie 7
15 pts	10 pts	20 pts		25 pts		



Maths

Jour 3

## Raconte-moi: Tes meilleures vacances

Suggestions pour développer tes idées:

- 1) Qui était présent?
- 2) Qu'avez-vous fait?
- 3) Qu'avez-vous mangé?
- 4) À quel endroit étiez-vous?
- 5) Qu'est-ce que tu gardes comme souvenir?



Écriture

# Jour 4

le nombre du jour:  
**29,09**

Questions:

- 1) Quel nombre vient juste avant? Quel nombre vient juste après?


\_\_\_\_\_ 29,09 \_\_\_\_\_

2) Rajoute-lui 5,25.

3) Enlève-lui 7,03.

4) À quelle position est le zéro?

5) Quelle est la valeur du chiffre 2?



Nombre du  
jour

## Savais-tu que?

Les tremblements de terre sont fréquents en Californie .

Recherche les informations suivantes:

- 1) Quel autre nom donne-t-on aux tremblements de terre?
- 2) Sur quelle échelle mesure-t-on l'amplitude d'un tremblement de terre?
- 3) Vrai ou faux. Les tremblements de terre sont des catastrophes naturelles.
- 4) Nomme 3 conséquences qu'un tremblement de terre peut causer.



# Jour 1

## Phrase du jour

Ton docteur t'a donné les mêmes conseils que l'infirmier.

Tâches:

- Transforme cette phrase au féminin.
- Quel est le sujet de cette phrase?
- Quelle est la classe de mot du mot conseils?
- Par quel pronom pourrait-on remplacer Ton docteur?
- Trouve deux autres adjectifs pour le mot conseils.



# Jour 2

## Les collections

Rym, Nathan et Diego sont des amis d'enfance. Ils aiment beaucoup passer du temps ensemble, car ils ont la même passion. Ce sont des collectionneurs de timbres depuis 3 ans. Tu trouveras le nombre de timbres amassés par chacun d'eux dans le tableau.

Dans deux semaines, il y aura un concours pour exposer les collections à l'école. Pour participer, les exposants doivent avoir une collection d'au moins 300 objets.

Est-ce que les trois amis pourront y participer? Justifie à l'aide d'arguments rigoureux.

	1 <sup>ère</sup> année	2 <sup>e</sup> année	3 <sup>e</sup> année
Rym	12 dizaines	126 timbres	1 centaine
Nathan	50 timbres	23 dizaines	$3 \times 6 = \underline{\quad}$ timbres
Diego	5 dizaines	$4 \times 10 = \underline{\quad}$ timbres	2 centaines



Maths

Jour 3

## Décris-moi: Ton repas favori

Suggestions pour développer tes idées:

- 1) Quel est ton repas préféré?
- 2) Qui te le prépare?
- 3) Connais-tu la recette?
- 4) Comment prépare-t-on ton repas favori?
- 5) Aimes-tu le cuisiner?
- 6) Quel est l'élément qui te plaît le plus dans ce repas?
- 7) Avec qui aimes-tu partager ce repas?



Écriture



Jour 4

Le nombre du jour:  
1038

Questions:

- 1) Quel nombre vient juste avant? Quel nombre vient juste après?


\_\_\_\_\_ 1038 \_\_\_\_\_

2) Rajoute-lui 116.

3) Enlève-lui 319.

4) Combien y a-t-il de dizaines (au total) dans ce nombre?

5) Quel chiffre est à la position des dizaines?



Nombre du  
jour

## Savais-tu que?

Environ 20% des jeunes Canadiens vivraient de l'intimidation.

Recherche les informations suivantes:

- 1) Nomme les trois types de violence que peuvent subir les victimes d'intimidation.
- 2) Vrai ou faux. L'intimidation c'est quand un ami se moque de toi une seule fois.
- 3) Nomme 2 conséquences que pourraient vivre les victimes d'intimidation.
- 4) Vrai ou faux. L'intimidation c'est intentionnel.



## Phrase du jour

Le client n'était pas très heureux de recevoir sa longue facture.

Tâches:

- Transforme cette phrase au pluriel.
- Quel est le sujet de cette phrase?
- À quel temps est conjugué le verbe était?
- Ajoute un adjectif au GN Le client.
- Comment est construit le GN Sa longue facture?
- Quelle est la classe de mot de recevoir?



## Jour 2

# Les bijoux de Laurence

Hier, Laurence a dessiné un graphique représentant l'inventaire de ses bijoux. Elle se pose quelques questions...

- 1) Quel type de bijou possède-t-elle le plus?
- 2) Quelle est la différence entre ses colliers et ses bracelets?
- 3) Combien a-t-elle de bijoux au total?



Jour 3

Fais ton choix:

Préfères-tu donner un cadeau  
ou recevoir un cadeau?

Suggestions pour développer tes idées:

- 1) Prends position.
- 2) Explique ton choix à l'aide de deux arguments.
- 3) Donne des exemples.



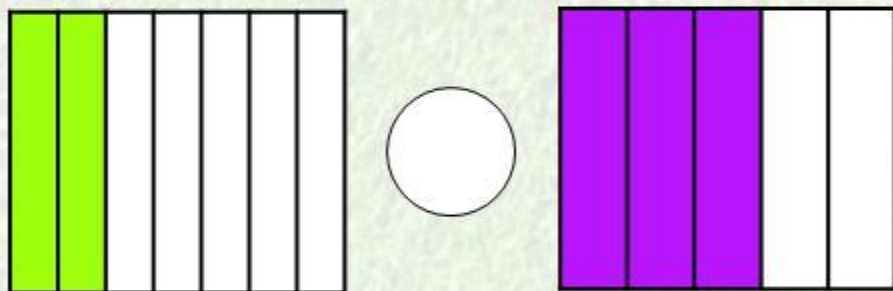
Écriture

Jour 4

Le nombre du jour:  
 $2/7$

Questions:

- 1) Quel est le dénominateur de ce nombre?
- 2) Compare les deux fractions.



Quelle est  
cette  
fraction?

- 3) Est-ce un nombre entier ou fractionnaire?
- 4) Quelle couleur de bonbon représente la fraction  $2/7$  dans le sac?
- 5) Vrai ou faux. Le nombre du jour est inférieur à 1.



Nombre du  
jour

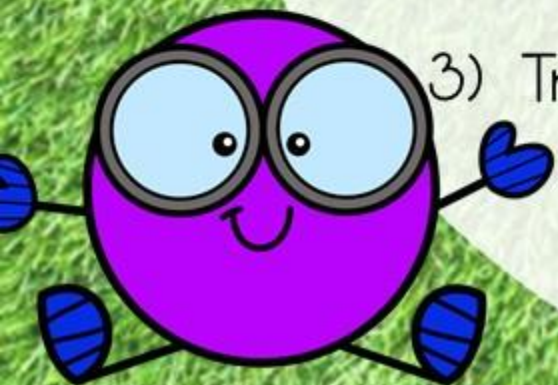
## Savais-tu que?

Le Québec est divisé en 17 régions administratives.

Recherche les informations suivantes:

- 1) Choisis une région et trouve 5 activités intéressantes que l'on peut faire en la visitant.
- 2) Vrai ou faux. Montréal est une région administrative du Québec.
- 3) Trouve 2 régions administratives qui ont dans leur nom un point cardinal.
- 4) Nomme les deux régions les plus au sud.

Petit rappel  
Points cardinaux:  
nord, sud, est et  
ouest



# Crédits

La structure de ce document a été inspirée par un document des créatrices de Prof à la deux. Par soucis éthique et par respect des créateurs, voici le lien pour leur document qui s'adresse aux élèves du 3<sup>e</sup> cycle.

[https://drive.google.com/drive/folders/1GwzAHdRY2B5Aw5SLf11PaK46hWucQLlu?usp=drive\\_open](https://drive.google.com/drive/folders/1GwzAHdRY2B5Aw5SLf11PaK46hWucQLlu?usp=drive_open)

Polices d'écriture utilisées:



Images:



la proferie